



Ce document a été numérisé par le CRDP
d'Alsace pour la Base Nationale des Sujets
d'Examens de l'enseignement
professionnel

PILOTAGE NATIONAL – SESSION 2011
MC COLORISTE – PERMANENTISTE

Ce sujet comporte 1 page + 3 pages de fiche technique à compléter

Assurez-vous que cet exemplaire est complet


S'il est incomplet, demandez un autre exemplaire au chef de salle.

- SUJET -

Pour le modèle qui vous est proposé et à partir de la photo ci-dessous, vous devez élaborer la procédure à mettre en œuvre pour obtenir la coiffure demandée.

Vous disposez de 30 minutes pour :

- Observer le modèle
- Lire le passé technique du modèle
- Observer attentivement la photo ci-jointe
- Compléter la fiche technique.



Source ECHOS
COIFFURE

EPREUVE E1 : CONCEPTION ET REALISATION DE MISE EN FORME PERMANENTE

1^{ère} PARTIE PROJET DE CONCEPTION DE MISE EN FORME PERMANENTE : DEFRISAGE

Durée : 30 minutes

Coefficient : 2

1/4

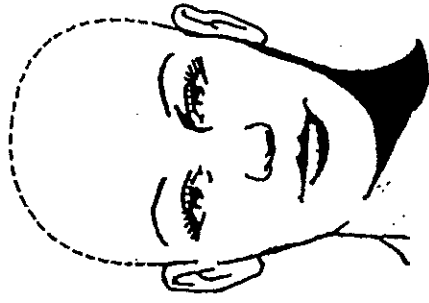

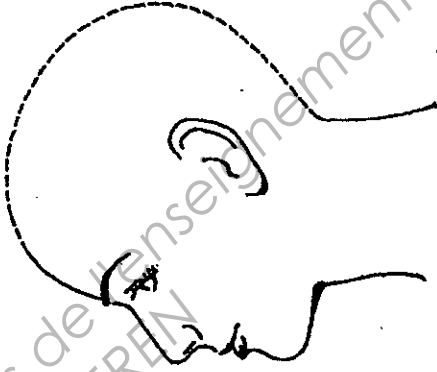
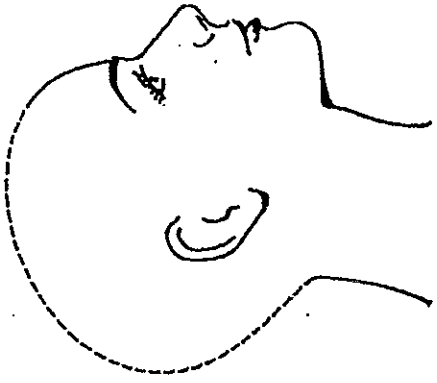
ACADÉMIE DE.....		MC COLORISTE-PERMANENTISTE – SESSION 2011	
EPREUVE E1 : CONCEPTION ET REALISATION DE MISE EN FORME PERMANENTE			
1 ^{ère} PARTIE PROJET DE CONCEPTION DE MISE EN FORME FRISAGE - DEFRISAGE		Durée : 30 minutes	Coefficient : 2

Centre d'Examen :

DATE :

N° DU CANDIDAT :

Gabarits : (6pts)

 <p>FACE</p>	 <p>NUQUE</p>	 <p>PROFIL 1</p>	 <p>PROFIL 2</p>
---	--	--	---

Diagnostic (4pts)

- > Type de cheveux :
- > Nature de la frisure :
- > Etat du cuir chevelu :

<p>Enumérer les différentes opérations du défrisage pour le résultat escompté, selon l'ordre chronologique.</p> <p>/10Pts</p>	<p>Lister le matériel, les produits utilisés. Justifier les choix.</p> <p>/10Pts</p>	<p>Décrire et justifier la technique accompagnée ou non de schémas.</p> <p>/10Pts</p>

Base Nationale des Sujets d'Examens de l'enseignement professionnel
Réseau SCEREN

Base Nationale des Sujets d'Examens de l'enseignement professionnel
Réseau SCEREN

--	--	--

/10 Pts	/10 Pts	/10 Pts
NOM des membres jury	Fonction	Signature
-	-	-
-	-	-

TOTAL : /40

TOTAL : /20